



نام درس: اقتصاد کلان ۲

رشته تحصیلی: گرایش: اقتصاد

کد درس: ۷۰۱۰۹۹

تعداد سؤال: فنی ۴۰ تکمیلی -- تشریحی --

زمان امتحان: تستی و تکمیلی ۸۰ دقیقه تشریحی --

تعداد کل صفحات: ۷

استفاده از ماشین حساب مجاز است.

۱. عبارت صحیح کدام است؟

الف. وسیله مبادله معین پول واسطه مبادله کالا با پول است.

ب. وسیله مبادله معین پول واسطه مبادله کالا با کالا است.

ج. وسیله مبادله تنها وظیفه پول است.

د. وسیله مبادله همان وظیفه وسیله سنجش بودن پول است.

۲. نقدینگی

الف. پول نقد رایج در بازار است.

ب. مجموعه حسابهای سرمایه‌گذاری کوتاه مدت است.

ج. مجموعه حسابهای سرمایه‌گذاری کوتاه مدت و قرض الحسنه است.

د. شامل پول نقد و شبه پول است.

۳. عبارت صحیح را انتخاب کنید:

الف. مصرف کالا لذت و مطلوبیت ایجاد می‌کند اما مصرف یک خدمت خیر.

ب. نگهداری پول نقد مانند نگهداری سهام و اوراق قرضه ایجاد درآمد می‌کند.

ج. تقاضای پول معادل نگهداری پول (Money holding) است.

د. نگرش به تقاضای پول مانند نگرش به تقاضای کالاها و خدمات است.

۴. در مورد تقاضای پول دیدگاه کدام مکتب ذیل به صورت درست بیان شده است؟

الف. در نظریه مکتب کمبریج پول صرفاً وسیله ذخیره ارزش است.

ب. در نظریه مکتب کلاسیک پول صرفاً وسیله ذخیره ارزش است.

ج. در نظریه مکتب کلاسیک پول صرفاً وسیله مبادله است.

د. در نظریه مکتب مارشال پول صرفاً وسیله ذخیره ارزش است.

۵. با عنایت به رابطه روبرو کدام گزینه درست است؟ $\frac{Md}{P} = K.Y$ الف. K سرعت گردش پول است.ب. $k.y$ معکوس سرعت گردش پول است.ج. $\frac{Md}{P}$ تقاضای اسمی پول است و با سرعت گردش پول رابطه مستقیم (مثبت) دارد.د. $\frac{Md}{P}$ تقاضای حقیقی پول است و با معکوس سرعت گردش پول رابطه مستقیم (مثبت) دارد.

۶. با توجه به نظریه رجحان نقدینگی گزینه صحیح را انتخاب کنید؟

الف. تقاضای سفته بازی معادل پول را کم می‌کند.

ب. تقاضای معاملاتی معادل پول را کم می‌کند.

ج. نگهداری پول را کم می‌کند الزاماً عملی غیر عقلایی است.

د. در تقاضای پول به صورت معاملاتی نرخ بهره اوراق قرضه نقش تعیین کننده‌ای دارد.



نام درس: اقتصاد کلان ۲

رشته تحصیلی - گرایش: اقتصاد

کد درس: ۷۰۱۰۹۹

تعداد سوال: نسی ۴۰ تکمیلی -- تشریحی --

زمان امتحان: تستی و تکمیلی ۸۰ نوبت تشریحی -- نوبت

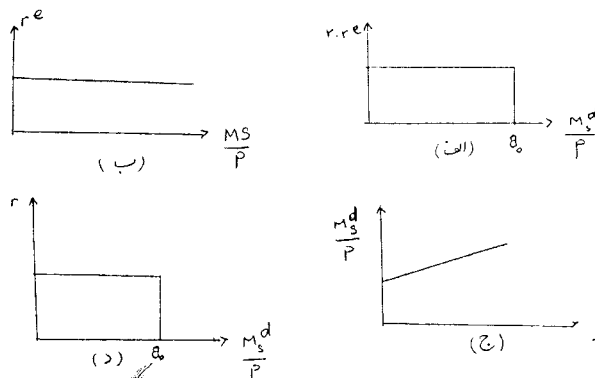
تعداد کل صفحات: ۷

۷. کدام فرمول زیر کل بازدهی اوراق قرضه را به صورت درصد بیان می‌کند؟

$$g = Pb^e Pb \text{ ب. الف. } g = \frac{r - r^e}{r^e}$$

$$e = r + g \quad \text{and} \quad g = e.r$$

۸. در کدام شکل تقاضای سفته بازی فرد به صورت صحیح نشان داده شده است؟



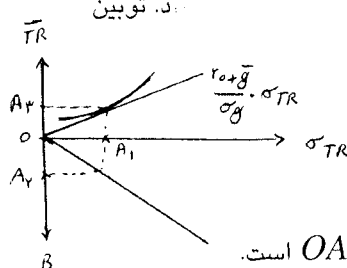
۹. در تحلیل کدام اقتصاددانان ذیل از تقاضای سفته بازی پول تا موضوع ریسک نگهداری اوراق قرضه مورد توجه قرار گرفته است؟

الف. كينز

ب. مارشال

ج. میل

د. توبين



۱۰. با توجه به شکل روبرو:

الف. چنانچه فرد ریسک‌پذیر باشد، در نرخ بهره r_c ، ریسک درآمد OA_1 است.

ب. چنانچه فرد ریسک‌پذیر باشد، در نرخ بهره r_c ، ریسک درآمد OA_p است.

ج. چنانچه فرد ریسک‌گریز باشد، در نرخ بهره r_c ، درآمد متوسط OA_T است.

د. چنانچه فرد ریسک‌گریز باشد، در نرخ بهره r_c ، حجم OA_1 پول را کد نگهداری می‌کند.

۱۱. بنا به نظر مقدار نگهداری پول برای معاملات بی تأثیر از نیست.

الف. توبين و بامول - نرخ بهره ب. توبين و کينز - نرخ تورم

ج. کینز - نرخ بهره


۱۲. عبارت صحیح را انتخاب کنید؟

الف. در دنیای امروز معادل اسکناس‌های انتشار یافته ذخیره طلا وجود دارد.

ر.ب. در دنیای امروز پستوانه اسکناس‌های انتشار یافته طلا، مطالبات بانک مرکزی از دولت، بدهی بانکها به بانک مرکزی و ذخایر ارزی است.

ج. استفاده از پول الکترونیکی هیچ مزیتی ندارد و تنها کنترل بانک مرکزی بر امور پولی و اعتباری را دشوار ساخته است.

د. در دنیای امروز در فرآیند خلق پول، الزاماً بانک مرکزی در هنگام خلق پول، اسکناس منتشر می‌کند.



نام درس: اقتصاد کلان ۲

رشته تحصیلی: گرایش: اقتصاد

کد درس: ۷۰۱۰۹۹

تعداد سوال: فنی ۴۰ تکمیلی -- تشریحی --

زمان امتحان: تستی و تکمیلی ۸۰ دقیقه تشریحی -- دقیقه

تعداد کل صفحات: ۷

۱۳. در ترازنامه بانک مرکزی کدام یک از اقلام ذیل در ستون بدهیها درج می شود؟

الف. خالص ذخایر ارزی بانک مرکزی

ب. ذخایر طلای بانک مرکزی

ج. ذخایر اضافی بانکها

۱۴. در یک اقتصاد فرضی که پایه پول ۱۰۰۰ واحد $C_d = 0/4$ ، نرخ سپرده قانونی $0/25$ و نرخ ذخیره احتیاطی $0/15$ است، عرضه پول چقدر خواهد بود؟

الف. ۴۰۰

ب. ۱۷۵۰

ج. ۱۴۰۰

د. ۸۰۰

۱۵. عوامل مؤثر بر پایه پول کدام اند؟

الف. خالص ذخایر ارزی بانک مرکزی

ب. نرخ ذخیره قانونی

ج. نرخ ذخیره اضافی

د. نسبت اسکناس به سپرده

۱۶. عبارت صحیح کدام است؟

الف. با فروش اوراق قرضه دولتی به مردم، حجم پول افزایش می یابد.

ب. وقتی دولت از بانک مرکزی قرض کند، پایه پول و در نتیجه حجم پول خلق شده افزایش می یابد.

ج. وقتی بانک مرکزی اوراق قرضه دولتی به بانکهای تجاری می فروشد، حجم پول افزایش می یابد.

د. با اعطای وام و اعتبار از سوی بانک مرکزی به بانکهای تجاری، حجم پول افزایش اما پایه پول کاهش می یابد.

۱۷. کدام یک از فرمولهای ذیل شیب منحنی $\frac{dr}{dy}|_{Is}$ را در یک الگوی سه بخشی نشان می دهد؟

$$\frac{1}{b + bc + bct}$$

$$\frac{1 - c(1 - t)}{b}$$

$$\frac{1}{b(1 - c + ct)}$$

$$\frac{1}{1 - c + ct}$$

۱۸. کدام یک از عوامل زیر موجب می شود تا منحنی Is (در یک الگوی سه بخشی) به صورت یک خط عمودی (بی کشش) در آید؟

الف. بی کشش بودن سرمایه گذاری نسبت به نرخ بهره

ب. افزایش مخارج دولتی

ج. تغییرات نرخ بهره

د. کاهش مالیاتهای مستقیم

با توجه به اطلاعات ذیل به سئوالات ۱۹ و ۲۰ پاسخ دهید؟

مصرف مستقل ۲۰۰ واحد، مالیاتهای ثابت ۵۰۰ واحد، نرخ مالیات $0/08$ ، میل نهایی به مصرف $0/75$ ، پرداختهای انتقالی ۴۵۰ و درآمد ملی ۱۵۰۰ واحد پولی.

۱۹. خالص مالیاتها برابر با است.

الف. ۵۰

ب. ۱۲۰

ج. ۱۷۰

د. ۶۲۰

۲۰. کل مصرف چقدر می باشد؟

الف. ۲۰۰

ب. ۱۷۰


ج. ۹۹۷/۵

د. ۱۱۹۷/۵

بزرگترین مرکز فروش نمونه سوالات از مدرسه تا دکتر با پنجم ترمی و ترم آخر
خرید و فروش کتابهای دانشگاه پیام نور. ارائه کلیه خدمات دانشجویی



مقاومت بیاندیشیم، گزینه هیچکدام را تیک بزنیم
بوکان: پاساژ شهرداری، تلفن: ۰۶۴۹۸۳۳۳-۰۴۸۲، نشر تیرک



نام درس: اقتصاد کلان ۲

رشته تحصیلی: گرایش: اقتصاد

کد درس: ۷۰۱۰۹۹

تعداد سؤال: نسی ۴۰ تکمیلی -- تشریحی --

زمان امتحان: تستی و تکمیلی ۸۰ دقیقه تشریحی --

تعداد کل صفحات: ۷

۲۱. کدام گزینه بر اساس نظریه درآمد مطلق یا نظریه مصرف کینزی صحیح است؟

(APC = میل متوسط به مصرف)(APS = میل نهایی متوسط به پس انداز)(MPS = میل نهایی به پس انداز)(MPC = میل نهایی به مصرف)ب. $APC < MPC$ د. $APS > MPS$ الف. $APC > MPC$ ج. $APC = MPC$ ۲۲. با عنایت به اطلاعات سؤال ۲۱ چنانچه میل نهایی به سرمایه‌گذاری ۴/۰٪ باشد، شیب منحنی IS چقدر خواهد شد؟

ج. ۴/۵ +

ب. ۲/۰ -

الف. ۹/۰ +

د. ۵/۴ -

۲۳. در شکل روبرو کدام نقطه نشان دهنده مازاد عرضه در بازار کالا و مازاد تقاضا در بازار پول است؟

د. D ج. C ب. B الف. A

با توجه به اطلاعات موجود پاسخ صحیح سئوالات ۲۴ و ۲۵ و ۲۶ را انتخاب کنید.

 $I = 500 - 100r$, $C = 800 + 0.8y_d$, $TR = 350$, $G = 600$ $\frac{MS}{P} = 400$, $M_d = 100 + 0.4y - 400r$, $T = 100 + 0.2y_d$ ۲۴. معادله منحنی LM کدام است؟ب. $r = 0.75 + 0.001y$ الف. $r = -0.75 + 0.001y$ د. $r = -0.004y$ ج. $y = -0.75 + 0.001r$

۲۵. حجم درآمد ملی تعادلی چقدر می‌باشد؟

د. $y = 4000$ ج. $y = 4500$ ب. $y = 4050$ الف. $y = 4450$

۲۶. چنانچه نرخ بهره به ۴ واحد افزایش یابد حجم سرمایه‌گذاری چقدر خواهد بود؟

د. ۳۷۰

ج. ۵۰۰

ب. ۱۰۰

الف. ۱۳۰

۲۷. با افزایش عرضه واقعی پول به ۶۰۰ واحد، شیب منحنی LM چقدر خواهد شد؟

د. ۰/۰۰۱

ج. ۰/۰۰۴ -

ب. ۰/۴ -

الف. ۰/۰۰۱ -

۲۸. در یک اقتصاد باز کدام یک از عوامل زیر موجب انتقال منحنی IS به سمت بالا و راست می‌شود؟

ج. کاهش مخارج دولتی

ب. کاهش نرخ ارز


الف. افزایش نرخ ارز

د. افزایش درآمد ملی

۲۹. افزایش بدان معنی است که مردم مایل هستند پول بیشتری نگهدارند و لذا منحنی به سمت بالا و چپ

می‌شود؟

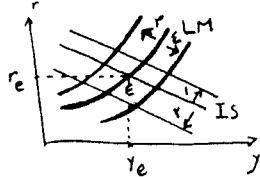
ب. عرضه پول حقیقی - IS د. عرضه پول حقیقی - LM الف. تقاضای مستقل پول $IS - (\bar{L})$ ج. تقاضای مستقل پول $LM - (\bar{L})$ 



تعداد سؤال: نسی ۴۰ تکمیلی -- تشریحی --
 زمان امتحان: نسی و تکمیلی ۸۰ دقیقه تشریحی --
 تعداد کل صفحات: ۷

نام درس: اقتصاد کلان ۲
 رشته تحصیلی: گرایش اقتصاد
 کلاس: ۷۰۱۰۹۹

۳۰. کاهش نرخ ذخیره قانونی و کاهش مخارج دولتی G به ترتیب موجب کدام یک از انتقالات روبرو می‌شود؟



- الف. ۱، ۳
 ب. ۲، ۴
 ج. ۲، ۳
 د. ۲، ۴

۳۱. با عنایت به سؤال ۳۰ وقوع کدام یک از موارد ذیل قطعی است؟

- الف. کاهش نرخ ارز
 ب. کاهش درآمد ملی
 ج. کاهش درآمدهای مالیاتی
 د. کاهش نرخ بهره تعادلی

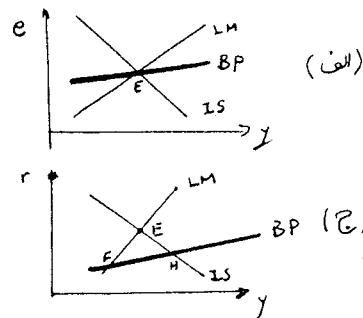
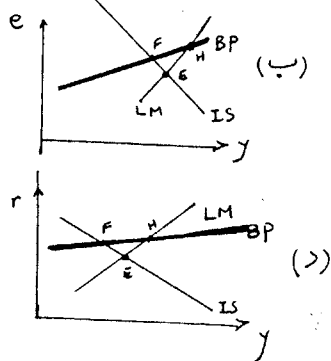
۳۲. یعنی ترکیب سیاست مالی افزایش هزینه‌های دولت و سیاست پولی و افزایش عرضه حقیقی پول که هدف آن افزایش تولید ملی در حالتی است که نداشته باشد.

- الف. سیاست تطابق سازی پولی - نرخ بهره کاهش چندانی
 ب. سیاست همسازی پولی - نرخ ارز کاهش چندانی
 ج. سیاست خنثی سازی پولی - نرخ بهره افزایش چندانی
 د. سیاست همسازی پولی - نرخ بهره افزایش چندانی

۳۳. عبارت درست را انتخاب کنید؟

- الف. در سیستم نرخ ارز ثابت، بانک مرکزی در تعیین نرخ ارز دخالتی ندارد.
 ب. در سیستم نرخ ارز شناور، در صورت بروز مازاد تراز پرداختها بانک مرکزی اقدام به خرید ارز و افزودن ذخایر ارزی خود می‌کند.
 ج. در سیستم نرخ ارز ثابت، در صورت بروز مازاد تراز پرداختها بانک مرکزی اقدام به خرید ارز و افزودن ذخایر ارزی خود می‌کند.
 د. سیستم نرخ ارز شناور، همان سیستم برتن و ویز یا سیستم پایه طلا - دلار است که در فاصله سالهای ۱۹۴۵ تا ۱۹۷۵ در دنیا رایج بود.

۳۴. کدام یک از اشکال زیر تعادل داخلی توأم با کسری تراز پرداختها را نشان می‌دهد؟





نام درس: اقتصاد کلان ۲

رشته تحصیلی: گرایش: اقتصاد

کد درس: ۷۰۱۰۹۹

تعداد سوال: نسی ۲۰ تکمیلی -- تشریحی --
 زمان امتحان: تستی و تکمیلی ۸۰ نسیه تشریحی -- نسیه
 تعداد کل صفحات: ۷

۳۵. چنانچه در یک کشور، سیستم نرخ ارز ثابت رایج باشد. کدام گزینه می‌تواند جمله ذیل را به درستی کامل کند.

دولت با در حالتی که BP کم شیب تر از LM است، را به راست انتقال داده و بانک مرکزی برای ایجاد تعادل مجدد با و افزایش عرضه پول منحنی LM را آنقدر به راست انتقال می‌دهد تا مجدداً تعادل داخلی مخرجی برقرار شود.

الف. اجرای سیاست مالی انقباضی IS - خرید ارز

ب. اجرای سیاست پولی انقباضی - LM - خرید ارز

ج. اجرای سیاست مالی انبساطی - IS - خرید ارز

د. اجرای سیاست مالی انبساطی - IS - فروش ارز

۳۶. عبارت صحیح را انتخاب کنید:

الف. هر آنچه منحنی IS را کم شیب‌تر کند، منحنی AS را نیز کم شیب‌تر می‌کند.

ب. هر آنچه منحنی LM را کم شیب‌تر کند، منحنی AD را نیز الزاماً کم شیب‌تر می‌کند.

ج. رابطه روشنی بین شیب LM و شیب AD وجود ندارد.

د. منحنی تقاضای کل الزاماً یک تابع خطی است و همواره دارای شیب ثابت است.

۳۷. اگر شکل متداول سه بخشی را برای منحنی تقاضای کل در نظر بگیریم. در کدام یک از حالات ذیل منحنی تقاضای کل و شیب آن، حالتی خاص به خود می‌گیرد؟

الف. $b \rightarrow \infty \Rightarrow \frac{dp}{dy} \Big|_{AD} \longrightarrow 1$ ب. $b \rightarrow 0 \Rightarrow \frac{dp}{dy} \Big|_{AD} \longrightarrow 0$

ج. $b \rightarrow 0 \Rightarrow \frac{dp}{dy} \Big|_{AD} \longrightarrow -\infty$ د. $b \rightarrow \infty \Rightarrow \frac{dp}{dy} \Big|_{AD} \longrightarrow -\infty$

۳۸. وجود اثر پیگو (اثر ثروت)

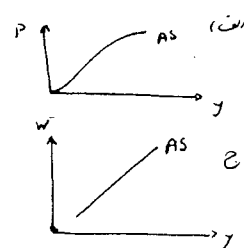
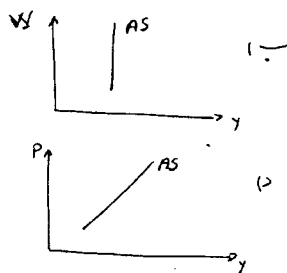
الف. نزولی بودن منحنی AD را تحت هر شرایطی تضمین می‌کند.


ب. نزولی بودن منحنی LM را تحت هر شرایطی تضمین می‌کند.

ج. صعودی بودن منحنی IS را تحت هر شرایطی تضمین می‌کند.

د. نزولی بودن منحنی AS را تحت هر شرایطی تضمین می‌کند.

۳۹. بر اساس وجود توهم پولی ناقص، منحنی AS چه شکلی خواهد داشت؟





نام درس: اقتصاد کلان ۲

رشته تحصیلی: گرایش: اقتصاد

کد درس: ۷۰۱۰۹۹

تعداد سؤال: نسی ۴۰ تکمیلی -- تشریحی --

زمان امتحان: نسی و تکمیلی ۸۰ دقیقه تشریحی --

تعداد کل صفحات: ۷

۴۰. عبارت صحیح را انتخاب کنید؟

الف. در حالت توهم پولی ناقص منحنی AS نسبت به حالت توهم کامل پولی، کم شیب‌تر است.

ب. منحنی عرضه کل در حالت چسبندگی دستمزد اسمی، از چپ به راست صعودی است.

ج. اگر چسبندگی قیمت وجود داشته باشد و ظرفیت تولید بیکار، زیاد باشد، آنگاه منحنی عرضه کل حالت عمودی به خود

می‌گیرد.

د. چسبندگی قیمت بر روی شیب منحنی AS تأثیری ندارد.